

**L'argent de poche :**

Noham avait de l'argent dans sa poche. Papy lui donne encore 12€. Noham a maintenant 30€.

**Combien Noham avait-il d'argent dans sa poche ?**

**L'argent de poche :**

Noham avait de l'argent dans sa poche. Papy lui donne encore 12€. Noham a maintenant 30€.

**Combien Noham avait-il d'argent dans sa poche ?**

**L'argent de poche :**

Noham avait de l'argent dans sa poche. Papy lui donne encore 12€. Noham a maintenant 30€.

**Combien Noham avait-il d'argent dans sa poche ?**

**L'argent de poche :**

Noham avait de l'argent dans sa poche. Papy lui donne encore 12€. Noham a maintenant 30€.

**Combien Noham avait-il d'argent dans sa poche ?**

**L'argent de poche :**

Noham avait de l'argent dans sa poche. Papy lui donne encore 12€. Noham a maintenant 30€.

**Combien Noham avait-il d'argent dans sa poche ?**

**L'argent de poche :**

Noham avait de l'argent dans sa poche. Papy lui donne encore 12€. Noham a maintenant 30€.

**Combien Noham avait-il d'argent dans sa poche ?**

**L'argent de poche :**

Noham avait de l'argent dans sa poche. Papy lui donne encore 12€. Noham a maintenant 30€.

**Combien Noham avait-il d'argent dans sa poche ?**

**L'argent de poche :**

Noham avait de l'argent dans sa poche. Papy lui donne encore 12€. Noham a maintenant 30€.

**Combien Noham avait-il d'argent dans sa poche ?**

**L'argent de poche :**

Noham avait de l'argent dans sa poche. Papy lui donne encore 12€. Noham a maintenant 30€.

**Combien Noham avait-il d'argent dans sa poche ?**

**L'argent de poche :**

Noham avait de l'argent dans sa poche. Papy lui donne encore 12€. Noham a maintenant 30€.

**Combien Noham avait-il d'argent dans sa poche ?**

**L'argent de poche :**

Noham avait de l'argent dans sa poche. Papy lui donne encore 12€. Noham a maintenant 30€.

**Combien Noham avait-il d'argent dans sa poche ?**

**L'argent de poche :**

Noham avait de l'argent dans sa poche. Papy lui donne encore 12€. Noham a maintenant 30€.

**Combien Noham avait-il d'argent dans sa poche ?**

**Le poulailler :**

Hier, Ines avait des œufs dans son panier.

Aujourd'hui, elle en ramasse 16.

Inès a maintenant 24 œufs.

**Combien d'œufs avait-elle hier dans son panier ?**

**Le poulailler :**

Hier, Ines avait des œufs dans son panier.

Aujourd'hui, elle en ramasse 16.

Inès a maintenant 24 œufs.

**Combien d'œufs avait-elle hier dans son panier ?**

**Le poulailler :**

Hier, Ines avait des œufs dans son panier.

Aujourd'hui, elle en ramasse 16.

Inès a maintenant 24 œufs.

**Combien d'œufs avait-elle hier dans son panier ?**

**Le poulailler :**

Hier, Ines avait des œufs dans son panier.

Aujourd'hui, elle en ramasse 16.

Inès a maintenant 24 œufs.

**Combien d'œufs avait-elle hier dans son panier ?**

**Le poulailler :**

Hier, Ines avait des œufs dans son panier.

Aujourd'hui, elle en ramasse 16.

Inès a maintenant 24 œufs.

**Combien d'œufs avait-elle hier dans son panier ?**

**Le poulailler :**

Hier, Ines avait des œufs dans son panier.

Aujourd'hui, elle en ramasse 16.

Inès a maintenant 24 œufs.

**Combien d'œufs avait-elle hier dans son panier ?**

**Le poulailler :**

Hier, Ines avait des œufs dans son panier.

Aujourd'hui, elle en ramasse 16.

Inès a maintenant 24 œufs.

**Combien d'œufs avait-elle hier dans son panier ?**

**Le poulailler :**

Hier, Ines avait des œufs dans son panier.

Aujourd'hui, elle en ramasse 16.

Inès a maintenant 24 œufs.

**Combien d'œufs avait-elle hier dans son panier ?**

**Le poulailler :**

Hier, Ines avait des œufs dans son panier.

Aujourd'hui, elle en ramasse 16.

Inès a maintenant 24 œufs.

**Combien d'œufs avait-elle hier dans son panier ?**

**Le poulailler :**

Hier, Ines avait des œufs dans son panier.

Aujourd'hui, elle en ramasse 16.

Inès a maintenant 24 œufs.

**Combien d'œufs avait-elle hier dans son panier ?**

**Le poulailler :**

Hier, Ines avait des œufs dans son panier.

Aujourd'hui, elle en ramasse 16.

Inès a maintenant 24 œufs.

**Combien d'œufs avait-elle hier dans son panier ?**

**Le poulailler :**

Hier, Ines avait des œufs dans son panier.

Aujourd'hui, elle en ramasse 16.

Inès a maintenant 24 œufs.

**Combien d'œufs avait-elle hier dans son panier ?**

**Tic et Tac**

Tic et Tac sont deux  
écureuils.

Tic a trouvé 19  
noisettes.

Tac en a trouvé 6 de  
plus que Tic.

**Combien de noisettes  
Tac a-t-il ?**

**Tic et Tac**

Tic et Tac sont deux  
écureuils.

Tic a trouvé 19  
noisettes.

Tac en a trouvé 6 de  
plus que Tic.

**Combien de noisettes  
Tac a-t-il ?**

**Tic et Tac**

Tic et Tac sont deux  
écureuils.

Tic a trouvé 19  
noisettes.

Tac en a trouvé 6 de  
plus que Tic.

**Combien de noisettes  
Tac a-t-il ?**

**Tic et Tac**

Tic et Tac sont deux  
écureuils.

Tic a trouvé 19  
noisettes.

Tac en a trouvé 6 de  
plus que Tic.

**Combien de noisettes  
Tac a-t-il ?**

**Tic et Tac**

Tic et Tac sont deux  
écureuils.

Tic a trouvé 19  
noisettes.

Tac en a trouvé 6 de  
plus que Tic.

**Combien de noisettes  
Tac a-t-il ?**

**Tic et Tac**

Tic et Tac sont deux  
écureuils.

Tic a trouvé 19  
noisettes.

Tac en a trouvé 6 de  
plus que Tic.

**Combien de noisettes  
Tac a-t-il ?**

**Tic et Tac**

Tic et Tac sont deux  
écureuils.

Tic a trouvé 19  
noisettes.

Tac en a trouvé 6 de  
plus que Tic.

**Combien de noisettes  
Tac a-t-il ?**

**Tic et Tac**

Tic et Tac sont deux  
écureuils.

Tic a trouvé 19  
noisettes.

Tac en a trouvé 6 de  
plus que Tic.

**Combien de noisettes  
Tac a-t-il ?**

**Tic et Tac**

Tic et Tac sont deux  
écureuils.

Tic a trouvé 19  
noisettes.

Tac en a trouvé 6 de  
plus que Tic.

**Combien de noisettes  
Tac a-t-il ?**

**Tic et Tac**

Tic et Tac sont deux  
écureuils.

Tic a trouvé 19  
noisettes.

Tac en a trouvé 6 de  
plus que Tic.

**Combien de noisettes  
Tac a-t-il ?**

**Tic et Tac**

Tic et Tac sont deux  
écureuils.

Tic a trouvé 19  
noisettes.

Tac en a trouvé 6 de  
plus que Tic.

**Combien de noisettes  
Tac a-t-il ?**

**Tic et Tac**

Tic et Tac sont deux  
écureuils.

Tic a trouvé 19  
noisettes.

Tac en a trouvé 6 de  
plus que Tic.

**Combien de noisettes  
Tac a-t-il ?**

**Piggeldy und Frederick**

Piggeldy und Frederick sind zwei Schweine. Piggeldy hat 19 Trüffeln gefunden. Frederick hat 6 Trüffeln mehr als Piggeldy gefunden.

**Wie viele Trüffeln hat Piggeldy ?**

**Piggeldy und Frederick**

Piggeldy und Frederick sind zwei Schweine. Piggeldy hat 19 Trüffeln gefunden. Frederick hat 6 Trüffeln mehr als Piggeldy gefunden.

**Wie viele Trüffeln hat Piggeldy ?**

**Piggeldy und Frederick**

Piggeldy und Frederick sind zwei Schweine. Piggeldy hat 19 Trüffeln gefunden. Frederick hat 6 Trüffeln mehr als Piggeldy gefunden.

**Wie viele Trüffeln hat Piggeldy ?**

**Piggeldy und Frederick**

Piggeldy und Frederick sind zwei Schweine. Piggeldy hat 19 Trüffeln gefunden. Frederick hat 6 Trüffeln mehr als Piggeldy gefunden.

**Wie viele Trüffeln hat Piggeldy ?**

**Piggeldy und Frederick**

Piggeldy und Frederick sind zwei Schweine. Piggeldy hat 19 Trüffeln gefunden. Frederick hat 6 Trüffeln mehr als Piggeldy gefunden.

**Wie viele Trüffeln hat Piggeldy ?**

**Piggeldy und Frederick**

Piggeldy und Frederick sind zwei Schweine. Piggeldy hat 19 Trüffeln gefunden. Frederick hat 6 Trüffeln mehr als Piggeldy gefunden.

**Wie viele Trüffeln hat Piggeldy ?**

**Piggeldy und Frederick**

Piggeldy und Frederick sind zwei Schweine. Piggeldy hat 19 Trüffeln gefunden. Frederick hat 6 Trüffeln mehr als Piggeldy gefunden.

**Wie viele Trüffeln hat Piggeldy ?**

**Piggeldy und Frederick**

Piggeldy und Frederick sind zwei Schweine. Piggeldy hat 19 Trüffeln gefunden. Frederick hat 6 Trüffeln mehr als Piggeldy gefunden.

**Wie viele Trüffeln hat Piggeldy ?**

**Piggeldy und Frederick**

Piggeldy und Frederick sind zwei Schweine. Piggeldy hat 19 Trüffeln gefunden. Frederick hat 6 Trüffeln mehr als Piggeldy gefunden.

**Wie viele Trüffeln hat Piggeldy ?**

**Piggeldy und Frederick**

Piggeldy und Frederick sind zwei Schweine. Piggeldy hat 19 Trüffeln gefunden. Frederick hat 6 Trüffeln mehr als Piggeldy gefunden.

**Wie viele Trüffeln hat Piggeldy ?**

**Piggeldy und Frederick**

Piggeldy und Frederick sind zwei Schweine. Piggeldy hat 19 Trüffeln gefunden. Frederick hat 6 Trüffeln mehr als Piggeldy gefunden.

**Wie viele Trüffeln hat Piggeldy ?**

**Piggeldy und Frederick**

Piggeldy und Frederick sind zwei Schweine. Piggeldy hat 19 Trüffeln gefunden. Frederick hat 6 Trüffeln mehr als Piggeldy gefunden.

**Wie viele Trüffeln hat Piggeldy ?**

**Max et Moritz**

Max et Moritz préparent des beignets pour carnaval.

Max en a cuit 13 et Moritz en a cuit 6 de moins que Max.

**Combien de beignets Moritz a-t-il cuit ?**

**Max et Moritz**

Max et Moritz préparent des beignets pour carnaval.

Max en a cuit 13 et Moritz en a cuit 6 de moins que Max.

**Combien de beignets Moritz a-t-il cuit ?**

**Max et Moritz**

Max et Moritz préparent des beignets pour carnaval.

Max en a cuit 13 et Moritz en a cuit 6 de moins que Max.

**Combien de beignets Moritz a-t-il cuit ?**

**Max et Moritz**

Max et Moritz préparent des beignets pour carnaval.

Max en a cuit 13 et Moritz en a cuit 6 de moins que Max.

**Combien de beignets Moritz a-t-il cuit ?**

**Max et Moritz**

Max et Moritz préparent des beignets pour carnaval.

Max en a cuit 13 et Moritz en a cuit 6 de moins que Max.

**Combien de beignets Moritz a-t-il cuit ?**

**Max et Moritz**

Max et Moritz préparent des beignets pour carnaval.

Max en a cuit 13 et Moritz en a cuit 6 de moins que Max.

**Combien de beignets Moritz a-t-il cuit ?**

**Max et Moritz**

Max et Moritz préparent des beignets pour carnaval.

Max en a cuit 13 et Moritz en a cuit 6 de moins que Max.

**Combien de beignets Moritz a-t-il cuit ?**

**Max et Moritz**

Max et Moritz préparent des beignets pour carnaval.

Max en a cuit 13 et Moritz en a cuit 6 de moins que Max.

**Combien de beignets Moritz a-t-il cuit ?**

**Max et Moritz**

Max et Moritz préparent des beignets pour carnaval.

Max en a cuit 13 et Moritz en a cuit 6 de moins que Max.

**Combien de beignets Moritz a-t-il cuit ?**

**Max et Moritz**

Max et Moritz préparent des beignets pour carnaval.

Max en a cuit 13 et Moritz en a cuit 6 de moins que Max.

**Combien de beignets Moritz a-t-il cuit ?**

**Max et Moritz**

Max et Moritz préparent des beignets pour carnaval.

Max en a cuit 13 et Moritz en a cuit 6 de moins que Max.

**Combien de beignets Moritz a-t-il cuit ?**

**Max et Moritz**

Max et Moritz préparent des beignets pour carnaval.

Max en a cuit 13 et Moritz en a cuit 6 de moins que Max.

**Combien de beignets Moritz a-t-il cuit ?**

**Max und Moritz**

Max und Moritz backen Berliner für Karneval. Max backt 13 Berliner und Moritz backt 6 weniger als Max.

**Wie viele Berliner hat Moritz gebacken ?**

**Max und Moritz**

Max und Moritz backen Berliner für Karneval. Max backt 13 Berliner und Moritz backt 6 weniger als Max.

**Wie viele Berliner hat Moritz gebacken ?**

**Max und Moritz**

Max und Moritz backen Berliner für Karneval. Max backt 13 Berliner und Moritz backt 6 weniger als Max.

**Wie viele Berliner hat Moritz gebacken ?**

**Max und Moritz**

Max und Moritz backen Berliner für Karneval. Max backt 13 Berliner und Moritz backt 6 weniger als Max.

**Wie viele Berliner hat Moritz gebacken ?**

**Max und Moritz**

Max und Moritz backen Berliner für Karneval. Max backt 13 Berliner und Moritz backt 6 weniger als Max.

**Wie viele Berliner hat Moritz gebacken ?**

**Max und Moritz**

Max und Moritz backen Berliner für Karneval. Max backt 13 Berliner und Moritz backt 6 weniger als Max.

**Wie viele Berliner hat Moritz gebacken ?**

**Max und Moritz**

Max und Moritz backen Berliner für Karneval. Max backt 13 Berliner und Moritz backt 6 weniger als Max.

**Wie viele Berliner hat Moritz gebacken ?**

**Max und Moritz**

Max und Moritz backen Berliner für Karneval. Max backt 13 Berliner und Moritz backt 6 weniger als Max.

**Wie viele Berliner hat Moritz gebacken ?**

**Max und Moritz**

Max und Moritz backen Berliner für Karneval. Max backt 13 Berliner und Moritz backt 6 weniger als Max.

**Wie viele Berliner hat Moritz gebacken ?**

**Max und Moritz**

Max und Moritz backen Berliner für Karneval. Max backt 13 Berliner und Moritz backt 6 weniger als Max.

**Wie viele Berliner hat Moritz gebacken ?**

**Max und Moritz**

Max und Moritz backen Berliner für Karneval. Max backt 13 Berliner und Moritz backt 6 weniger als Max.

**Wie viele Berliner hat Moritz gebacken ?**

**Max und Moritz**

Max und Moritz backen Berliner für Karneval. Max backt 13 Berliner und Moritz backt 6 weniger als Max.

**Wie viele Berliner hat Moritz gebacken ?**

**Les bonbons :**

Ce matin, Elyana a des bonbons dans sa poche. Après l'école, Elyana en donne 25 à ses camarades. Il lui en reste 7.

**Elyana avait \_\_\_ bonbons ce matin.**

**Les bonbons :**

Ce matin, Elyana a des bonbons dans sa poche. Après l'école, Elyana en donne 25 à ses camarades. Il lui en reste 7.

**Elyana avait \_\_\_ bonbons ce matin.**

**Les bonbons :**

Ce matin, Elyana a des bonbons dans sa poche. Après l'école, Elyana en donne 25 à ses camarades. Il lui en reste 7.

**Elyana avait \_\_\_ bonbons ce matin.**

**Les bonbons :**

Ce matin, Elyana a des bonbons dans sa poche. Après l'école, Elyana en donne 25 à ses camarades. Il lui en reste 7.

**Elyana avait \_\_\_ bonbons ce matin.**

**Les bonbons :**

Ce matin, Elyana a des bonbons dans sa poche. Après l'école, Elyana en donne 25 à ses camarades. Il lui en reste 7.

**Elyana avait \_\_\_ bonbons ce matin.**

**Les bonbons :**

Ce matin, Elyana a des bonbons dans sa poche. Après l'école, Elyana en donne 25 à ses camarades. Il lui en reste 7.

**Elyana avait \_\_\_ bonbons ce matin.**

**Les bonbons :**

Ce matin, Elyana a des bonbons dans sa poche. Après l'école, Elyana en donne 25 à ses camarades. Il lui en reste 7.

**Elyana avait \_\_\_ bonbons ce matin.**

**Les bonbons :**

Ce matin, Elyana a des bonbons dans sa poche. Après l'école, Elyana en donne 25 à ses camarades. Il lui en reste 7.

**Elyana avait \_\_\_ bonbons ce matin.**

**Les bonbons :**

Ce matin, Elyana a des bonbons dans sa poche. Après l'école, Elyana en donne 25 à ses camarades. Il lui en reste 7.

**Elyana avait \_\_\_ bonbons ce matin.**

**Les bonbons :**

Ce matin, Elyana a des bonbons dans sa poche. Après l'école, Elyana en donne 25 à ses camarades. Il lui en reste 7.

**Elyana avait \_\_\_ bonbons ce matin.**

**Les bonbons :**

Ce matin, Elyana a des bonbons dans sa poche. Après l'école, Elyana en donne 25 à ses camarades. Il lui en reste 7.

**Elyana avait \_\_\_ bonbons ce matin.**

**Les bonbons :**

Ce matin, Elyana a des bonbons dans sa poche. Après l'école, Elyana en donne 25 à ses camarades. Il lui en reste 7.

**Elyana avait \_\_\_ bonbons ce matin.**

**Bonbons**

Heute Morgen hat Elyana Bonbons in ihrer Tasche. Nach der Schule gibt Elyana ihren Freunden 25 Bonbons. Sie hat noch 7 übrig.

**Heute Morgen hatte Elyana \_\_\_\_ Bonbons.**

**Bonbons**

Heute Morgen hat Elyana Bonbons in ihrer Tasche. Nach der Schule gibt Elyana ihren Freunden 25 Bonbons. Sie hat noch 7 übrig.

**Heute Morgen hatte Elyana \_\_\_\_ Bonbons.**

**Bonbons**

Heute Morgen hat Elyana Bonbons in ihrer Tasche. Nach der Schule gibt Elyana ihren Freunden 25 Bonbons. Sie hat noch 7 übrig.

**Heute Morgen hatte Elyana \_\_\_\_ Bonbons.**

**Bonbons**

Heute Morgen hat Elyana Bonbons in ihrer Tasche. Nach der Schule gibt Elyana ihren Freunden 25 Bonbons. Sie hat noch 7 übrig.

**Heute Morgen hatte Elyana \_\_\_\_ Bonbons.**

**Bonbons**

Heute Morgen hat Elyana Bonbons in ihrer Tasche. Nach der Schule gibt Elyana ihren Freunden 25 Bonbons. Sie hat noch 7 übrig.

**Heute Morgen hatte Elyana \_\_\_\_ Bonbons.**

**Bonbons**

Heute Morgen hat Elyana Bonbons in ihrer Tasche. Nach der Schule gibt Elyana ihren Freunden 25 Bonbons. Sie hat noch 7 übrig.

**Heute Morgen hatte Elyana \_\_\_\_ Bonbons.**

**Bonbons**

Heute Morgen hat Elyana Bonbons in ihrer Tasche. Nach der Schule gibt Elyana ihren Freunden 25 Bonbons. Sie hat noch 7 übrig.

**Heute Morgen hatte Elyana \_\_\_\_ Bonbons.**

**Bonbons**

Heute Morgen hat Elyana Bonbons in ihrer Tasche. Nach der Schule gibt Elyana ihren Freunden 25 Bonbons. Sie hat noch 7 übrig.

**Heute Morgen hatte Elyana \_\_\_\_ Bonbons.**

**Bonbons**

Heute Morgen hat Elyana Bonbons in ihrer Tasche. Nach der Schule gibt Elyana ihren Freunden 25 Bonbons. Sie hat noch 7 übrig.

**Heute Morgen hatte Elyana \_\_\_\_ Bonbons.**

**Bonbons**

Heute Morgen hat Elyana Bonbons in ihrer Tasche. Nach der Schule gibt Elyana ihren Freunden 25 Bonbons. Sie hat noch 7 übrig.

**Heute Morgen hatte Elyana \_\_\_\_ Bonbons.**

**Bonbons**

Heute Morgen hat Elyana Bonbons in ihrer Tasche. Nach der Schule gibt Elyana ihren Freunden 25 Bonbons. Sie hat noch 7 übrig.

**Heute Morgen hatte Elyana \_\_\_\_ Bonbons.**

**Bonbons**

Heute Morgen hat Elyana Bonbons in ihrer Tasche. Nach der Schule gibt Elyana ihren Freunden 25 Bonbons. Sie hat noch 7 übrig.

**Heute Morgen hatte Elyana \_\_\_\_ Bonbons.**



**Quel âge as-tu ?**

Tata Lina a 37 ans.  
Tonton William a 9  
ans de moins que  
Tata Lina.

**William a \_\_\_ ans.**

**Quel âge as-tu ?**

Tata Lina a 37 ans.  
Tonton William a 9  
ans de moins que  
Tata Lina.

**William a \_\_\_ ans.**

**Quel âge as-tu ?**

Tata Lina a 37 ans.  
Tonton William a 9  
ans de moins que  
Tata Lina.

**William a \_\_\_ ans.**

**Quel âge as-tu ?**

Tata Lina a 37 ans.  
Tonton William a 9  
ans de moins que  
Tata Lina.

**William a \_\_\_ ans.**

**Quel âge as-tu ?**

Tata Lina a 37 ans.  
Tonton William a 9  
ans de moins que  
Tata Lina.

**William a \_\_\_ ans.**

**Quel âge as-tu ?**

Tata Lina a 37 ans.  
Tonton William a 9  
ans de moins que  
Tata Lina.

**William a \_\_\_ ans.**

**Quel âge as-tu ?**

Tata Lina a 37 ans.  
Tonton William a 9  
ans de moins que  
Tata Lina.

**William a \_\_\_ ans.**

**Quel âge as-tu ?**

Tata Lina a 37 ans.  
Tonton William a 9  
ans de moins que  
Tata Lina.

**William a \_\_\_ ans.**

**Quel âge as-tu ?**

Tata Lina a 37 ans.  
Tonton William a 9  
ans de moins que  
Tata Lina.

**William a \_\_\_ ans.**

**Quel âge as-tu ?**

Tata Lina a 37 ans.  
Tonton William a 9  
ans de moins que  
Tata Lina.

**William a \_\_\_ ans.**

**Quel âge as-tu ?**

Tata Lina a 37 ans.  
Tonton William a 9  
ans de moins que  
Tata Lina.

**William a \_\_\_ ans.**

**Quel âge as-tu ?**

Tata Lina a 37 ans.  
Tonton William a 9  
ans de moins que  
Tata Lina.

**William a \_\_\_ ans.**

**Wie alt bist du ?**

Tante Lina ist 37 Jahre alt.

Onkel William ist 9 Jahre jünger als Tante Lina.

**William ist \_\_\_\_ Jahre alt.**

**Wie alt bist du ?**

Tante Lina ist 37 Jahre alt.

Onkel William ist 9 Jahre jünger als Tante Lina.

**William ist \_\_\_\_ Jahre alt.**

**Wie alt bist du ?**

Tante Lina ist 37 Jahre alt.

Onkel William ist 9 Jahre jünger als Tante Lina.

**William ist \_\_\_\_ Jahre alt.**

**Wie alt bist du ?**

Tante Lina ist 37 Jahre alt.

Onkel William ist 9 Jahre jünger als Tante Lina.

**William ist \_\_\_\_ Jahre alt.**

**Wie alt bist du ?**

Tante Lina ist 37 Jahre alt.

Onkel William ist 9 Jahre jünger als Tante Lina.

**William ist \_\_\_\_ Jahre alt.**

**Wie alt bist du ?**

Tante Lina ist 37 Jahre alt.

Onkel William ist 9 Jahre jünger als Tante Lina.

**William ist \_\_\_\_ Jahre alt.**

**Wie alt bist du ?**

Tante Lina ist 37 Jahre alt.

Onkel William ist 9 Jahre jünger als Tante Lina.

**William ist \_\_\_\_ Jahre alt.**

**Wie alt bist du ?**

Tante Lina ist 37 Jahre alt.

Onkel William ist 9 Jahre jünger als Tante Lina.

**William ist \_\_\_\_ Jahre alt.**

**Wie alt bist du ?**

Tante Lina ist 37 Jahre alt.

Onkel William ist 9 Jahre jünger als Tante Lina.

**William ist \_\_\_\_ Jahre alt.**

**Wie alt bist du ?**

Tante Lina ist 37 Jahre alt.

Onkel William ist 9 Jahre jünger als Tante Lina.

**William ist \_\_\_\_ Jahre alt.**

**Wie alt bist du ?**

Tante Lina ist 37 Jahre alt.

Onkel William ist 9 Jahre jünger als Tante Lina.

**William ist \_\_\_\_ Jahre alt.**

**Wie alt bist du ?**

Tante Lina ist 37 Jahre alt.

Onkel William ist 9 Jahre jünger als Tante Lina.

**William ist \_\_\_\_ Jahre alt.**

**La pochette de feutres**

Souleyman avait une belle pochette de feutres. Il en jette 8 qui ne fonctionnent plus. Il ne lui en reste plus que 16.

**Combien de feutres avait-il dans sa belle pochette ?**

**La pochette de feutres**

Souleyman avait une belle pochette de feutres. Il en jette 8 qui ne fonctionnent plus. Il ne lui en reste plus que 16.

**Combien de feutres avait-il dans sa belle pochette ?**

**La pochette de feutres**

Souleyman avait une belle pochette de feutres. Il en jette 8 qui ne fonctionnent plus. Il ne lui en reste plus que 16.

**Combien de feutres avait-il dans sa belle pochette ?**

**La pochette de feutres**

Souleyman avait une belle pochette de feutres. Il en jette 8 qui ne fonctionnent plus. Il ne lui en reste plus que 16.

**Combien de feutres avait-il dans sa belle pochette ?**

**La pochette de feutres**

Souleyman avait une belle pochette de feutres. Il en jette 8 qui ne fonctionnent plus. Il ne lui en reste plus que 16.

**Combien de feutres avait-il dans sa belle pochette ?**

**La pochette de feutres**

Souleyman avait une belle pochette de feutres. Il en jette 8 qui ne fonctionnent plus. Il ne lui en reste plus que 16.

**Combien de feutres avait-il dans sa belle pochette ?**

**La pochette de feutres**

Souleyman avait une belle pochette de feutres. Il en jette 8 qui ne fonctionnent plus. Il ne lui en reste plus que 16.

**Combien de feutres avait-il dans sa belle pochette ?**

**La pochette de feutres**

Souleyman avait une belle pochette de feutres. Il en jette 8 qui ne fonctionnent plus. Il ne lui en reste plus que 16.

**Combien de feutres avait-il dans sa belle pochette ?**

**La pochette de feutres**

Souleyman avait une belle pochette de feutres. Il en jette 8 qui ne fonctionnent plus. Il ne lui en reste plus que 16.

**Combien de feutres avait-il dans sa belle pochette ?**

**La pochette de feutres**

Souleyman avait une belle pochette de feutres. Il en jette 8 qui ne fonctionnent plus. Il ne lui en reste plus que 16.

**Combien de feutres avait-il dans sa belle pochette ?**

**La pochette de feutres**

Souleyman avait une belle pochette de feutres. Il en jette 8 qui ne fonctionnent plus. Il ne lui en reste plus que 16.

**Combien de feutres avait-il dans sa belle pochette ?**

**La pochette de feutres**

Souleyman avait une belle pochette de feutres. Il en jette 8 qui ne fonctionnent plus. Il ne lui en reste plus que 16.

**Combien de feutres avait-il dans sa belle pochette ?**

**La pochette de feutres**

Souleyman avait une belle pochette de feutres. Il en jette 4 qui ne fonctionnent plus. Il ne lui en reste plus que 8.

**Combien de feutres avait-il dans sa belle pochette ?**

**La pochette de feutres**

Souleyman avait une belle pochette de feutres. Il en jette 4 qui ne fonctionnent plus. Il ne lui en reste plus que 8.

**Combien de feutres avait-il dans sa belle pochette ?**

**La pochette de feutres**

Souleyman avait une belle pochette de feutres. Il en jette 4 qui ne fonctionnent plus. Il ne lui en reste plus que 8.

**Combien de feutres avait-il dans sa belle pochette ?**

**La pochette de feutres**

Souleyman avait une belle pochette de feutres. Il en jette 4 qui ne fonctionnent plus. Il ne lui en reste plus que 8.

**Combien de feutres avait-il dans sa belle pochette ?**

**La pochette de feutres**

Souleyman avait une belle pochette de feutres. Il en jette 4 qui ne fonctionnent plus. Il ne lui en reste plus que 8.

**Combien de feutres avait-il dans sa belle pochette ?**

**La pochette de feutres**

Souleyman avait une belle pochette de feutres. Il en jette 4 qui ne fonctionnent plus. Il ne lui en reste plus que 8.

**Combien de feutres avait-il dans sa belle pochette ?**

**La pochette de feutres**

Souleyman avait une belle pochette de feutres. Il en jette 4 qui ne fonctionnent plus. Il ne lui en reste plus que 8.

**Combien de feutres avait-il dans sa belle pochette ?**

**La pochette de feutres**

Souleyman avait une belle pochette de feutres. Il en jette 4 qui ne fonctionnent plus. Il ne lui en reste plus que 8.

**Combien de feutres avait-il dans sa belle pochette ?**

**La pochette de feutres**

Souleyman avait une belle pochette de feutres. Il en jette 4 qui ne fonctionnent plus. Il ne lui en reste plus que 8.

**Combien de feutres avait-il dans sa belle pochette ?**

**La pochette de feutres**

Souleyman avait une belle pochette de feutres. Il en jette 4 qui ne fonctionnent plus. Il ne lui en reste plus que 8.

**Combien de feutres avait-il dans sa belle pochette ?**

**La pochette de feutres**

Souleyman avait une belle pochette de feutres. Il en jette 4 qui ne fonctionnent plus. Il ne lui en reste plus que 8.

**Combien de feutres avait-il dans sa belle pochette ?**

**La pochette de feutres**

Souleyman avait une belle pochette de feutres. Il en jette 4 qui ne fonctionnent plus. Il ne lui en reste plus que 8.

**Combien de feutres avait-il dans sa belle pochette ?**

**Les figurines :**

Arihanna et Kaan collectionnent les figurines.

Arihanna en a 32 et Kaan en a 12 de moins.

**Combien de figurines Kaan a-t-il ?**

**Les figurines :**

Arihanna et Kaan collectionnent les figurines.

Arihanna en a 32 et Kaan en a 12 de moins.

**Combien de figurines Kaan a-t-il ?**

**Les figurines :**

Arihanna et Kaan collectionnent les figurines.

Arihanna en a 32 et Kaan en a 12 de moins.

**Combien de figurines Kaan a-t-il ?**

**Les figurines :**

Arihanna et Kaan collectionnent les figurines.

Arihanna en a 32 et Kaan en a 12 de moins.

**Combien de figurines Kaan a-t-il ?**

**Les figurines :**

Arihanna et Kaan collectionnent les figurines.

Arihanna en a 32 et Kaan en a 12 de moins.

**Combien de figurines Kaan a-t-il ?**

**Les figurines :**

Arihanna et Kaan collectionnent les figurines.

Arihanna en a 32 et Kaan en a 12 de moins.

**Combien de figurines Kaan a-t-il ?**

**Les figurines :**

Arihanna et Kaan collectionnent les figurines.

Arihanna en a 32 et Kaan en a 12 de moins.

**Combien de figurines Kaan a-t-il ?**

**Les figurines :**

Arihanna et Kaan collectionnent les figurines.

Arihanna en a 32 et Kaan en a 12 de moins.

**Combien de figurines Kaan a-t-il ?**

**Les figurines :**

Arihanna et Kaan collectionnent les figurines.

Arihanna en a 32 et Kaan en a 12 de moins.

**Combien de figurines Kaan a-t-il ?**

**Les figurines :**

Arihanna et Kaan collectionnent les figurines.

Arihanna en a 32 et Kaan en a 12 de moins.

**Combien de figurines Kaan a-t-il ?**

**Les figurines :**

Arihanna et Kaan collectionnent les figurines.

Arihanna en a 32 et Kaan en a 12 de moins.

**Combien de figurines Kaan a-t-il ?**

**Les figurines :**

Arihanna et Kaan collectionnent les figurines.

Arihanna en a 32 et Kaan en a 12 de moins.

**Combien de figurines Kaan a-t-il ?**

### Les figurines :

Arihanna et Kaan collectionnent les figurines.

Arihanna en a 11 et Kaan en a 5 de moins.

**Combien de figurines Kaan a-t-il ?**

### Les figurines :

Arihanna et Kaan collectionnent les figurines.

Arihanna en a 11 et Kaan en a 5 de moins.

**Combien de figurines Kaan a-t-il ?**

### Les figurines :

Arihanna et Kaan collectionnent les figurines.

Arihanna en a 11 et Kaan en a 5 de moins.

**Combien de figurines Kaan a-t-il ?**

### Les figurines :

Arihanna et Kaan collectionnent les figurines.

Arihanna en a 11 et Kaan en a 5 de moins.

**Combien de figurines Kaan a-t-il ?**

### Les figurines :

Arihanna et Kaan collectionnent les figurines.

Arihanna en a 11 et Kaan en a 5 de moins.

**Combien de figurines Kaan a-t-il ?**

### Les figurines :

Arihanna et Kaan collectionnent les figurines.

Arihanna en a 11 et Kaan en a 5 de moins.

**Combien de figurines Kaan a-t-il ?**

### Les figurines :

Arihanna et Kaan collectionnent les figurines.

Arihanna en a 11 et Kaan en a 5 de moins.

**Combien de figurines Kaan a-t-il ?**

### Les figurines :

Arihanna et Kaan collectionnent les figurines.

Arihanna en a 11 et Kaan en a 5 de moins.

**Combien de figurines Kaan a-t-il ?**

### Les figurines :

Arihanna et Kaan collectionnent les figurines.

Arihanna en a 11 et Kaan en a 5 de moins.

**Combien de figurines Kaan a-t-il ?**

### Les figurines :

Arihanna et Kaan collectionnent les figurines.

Arihanna en a 11 et Kaan en a 5 de moins.

**Combien de figurines Kaan a-t-il ?**

### Les figurines :

Arihanna et Kaan collectionnent les figurines.

Arihanna en a 11 et Kaan en a 5 de moins.

**Combien de figurines Kaan a-t-il ?**

### Les figurines :

Arihanna et Kaan collectionnent les figurines.

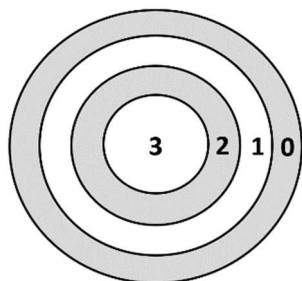
Arihanna en a 11 et Kaan en a 5 de moins.

**Combien de figurines Kaan a-t-il ?**

### Bonus n°1 : Les fléchettes

Avec 4 fléchettes dans la cible, Léa veut obtenir 8 points.

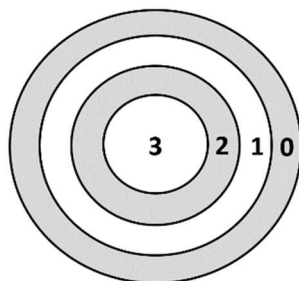
Où peut-elle planter ses 4 fléchettes. Trouve toutes les solutions possibles.



### Bonus n°1 : Les fléchettes

Avec 4 fléchettes dans la cible, Léa veut obtenir 8 points.

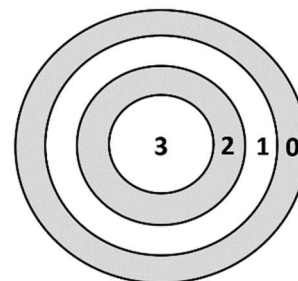
Où peut-elle planter ses 4 fléchettes. Trouve toutes les solutions possibles.



### Bonus n°1 : Les fléchettes

Avec 4 fléchettes dans la cible, Léa veut obtenir 8 points.

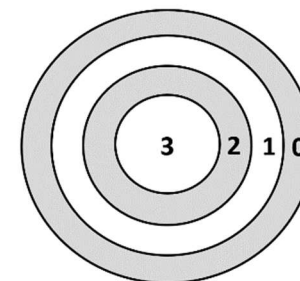
Où peut-elle planter ses 4 fléchettes. Trouve toutes les solutions possibles.



### Bonus n°1 : Les fléchettes

Avec 4 fléchettes dans la cible, Léa veut obtenir 8 points.

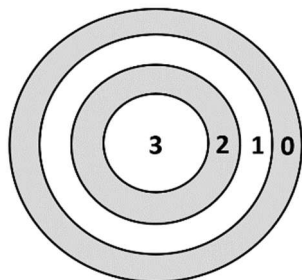
Où peut-elle planter ses 4 fléchettes. Trouve toutes les solutions possibles.



### Bonus n°1 : Les fléchettes

Avec 4 fléchettes dans la cible, Léa veut obtenir 8 points.

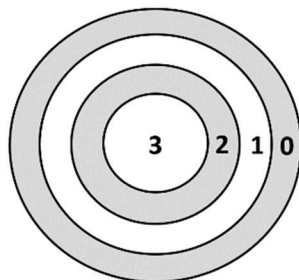
Où peut-elle planter ses 4 fléchettes. Trouve toutes les solutions possibles.



### Bonus n°1 : Les fléchettes

Avec 4 fléchettes dans la cible, Léa veut obtenir 8 points.

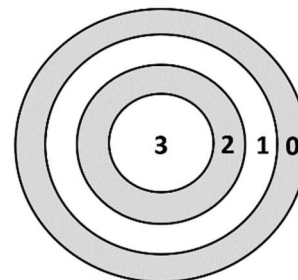
Où peut-elle planter ses 4 fléchettes. Trouve toutes les solutions possibles.



### Bonus n°1 : Les fléchettes

Avec 4 fléchettes dans la cible, Léa veut obtenir 8 points.

Où peut-elle planter ses 4 fléchettes. Trouve toutes les solutions possibles.



### Bonus n°1 : Les fléchettes

Avec 4 fléchettes dans la cible, Léa veut obtenir 8 points.

Où peut-elle planter ses 4 fléchettes. Trouve toutes les solutions possibles.

